

Übungen zu "Grundlagen der Physik Ib"

Blatt 9

SS 2007

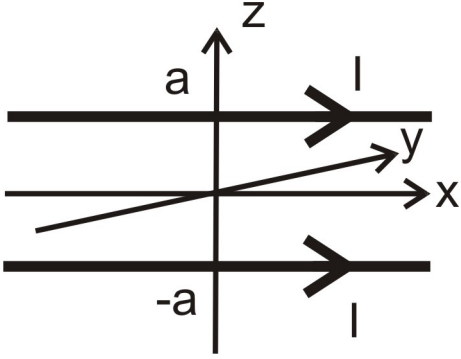
Abgabe bis Montag, den 18.06.2007, **14:00Uhr**

Abgabebox im Kern MF, 2. Etage

Aufgabe 1:

Zwei unendlich lange, gerade Drähte, die parallel zu x-Achse durch die Punkte $(0, 0, a)$, $(0, 0, -a)$ laufen, werden beide vom konstanten Strom I durchflossen (s. Skizze).

- a) Berechnen Sie die von dieser Stromverteilung erzeugte magnetische Feldstärke $\vec{B}(x, y)$ in der xy -Ebene,
- b) Welches ist der Maximalwert von $|\vec{B}(x, y)|$ und wo wird er angenommen?



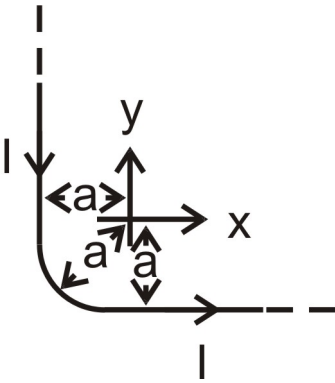
Aufgabe 2:

In der xy -Ebene liege ein dünner, unendlich langer Draht, der die Form eines abgerundeten rechten Winkels hat: Er verläuft zunächst im Abstand a parallel zur y -Achse, beschreibt dann einen Viertelkreis mit dem Radius a um den Ursprung und verläuft schließlich im Abstand a parallel zur x -Achse (s. Skizze).

Dieser Draht werde, wie skizziert, vom Strom I durchflossen. Berechnen Sie die magnetische Feldstärke \vec{B} im Ursprung.

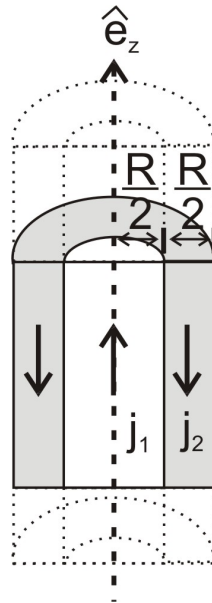
Hinweis:

$$\int \frac{1}{(a^2 + u^2)^{3/2}} du = \frac{1}{a^2} \frac{u}{\sqrt{a^2 + u^2}} \quad (a = \text{Konstante})$$



Aufgabe 3:

Ein unendlich langer, zylindrischer Leiter mit dem Radius $R/2$ (Zylinderachse sei die z -Achse) werde von einem Strom mit der konstanten Stromdichte $\vec{j}_1 = j_0 \hat{e}_z$ durchflossen. Der Leiter ist von einem ebenfalls unendlich langen Hohlzylinder mit einer Wandstärke von $R/2$ umgeben, in dem ein Strom mit der konstanten Stromdichte $\vec{j}_2 = -j_0 \hat{e}_z$ fließt. Leiter und Zylinder sind durch eine unendlich dünnen Isolierschicht voneinander getrennt. Außerhalb dieser Anordnung fließt kein Strom (s. Skizze). Berechnen Sie die Magnetfeldstärke $\vec{B}(r)$ im gesamten Raum. Aus Symmetriegründen können Sie $\vec{B}(r) = B_\varphi(r) \hat{e}_\varphi$ ansetzen. Skizzieren Sie $B_\varphi(r)$.



Aufgabe 4:

Durch einen unendlich langen, zylindrischen Leiter mit dem Radius R fließe ein Strom der Stärke I . Dabei soll die Stromdichte \vec{j} im Innern des Leiters ortsabhängig sein:

$$\vec{j}(\rho) = j_{\max} \left(1 - \frac{\rho}{R}\right) \hat{e}_z$$

Hier ist, wie üblich, ρ der radiale Abstand von der Zylinderachse. Der Außenraum des Leiters ist stromfrei.

- Drücken Sie j_{\max} durch I und R aus.
- Berechnen Sie \vec{B} im Innern und außerhalb des Leiters als Funktion von ρ , R und I und skizzieren Sie qualitativ $|\vec{B}|$ als Funktion von ρ .