

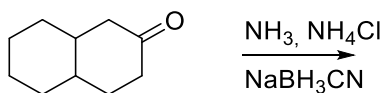
Übungen Organische Chemie II (OC-II)

8. Übungsblatt

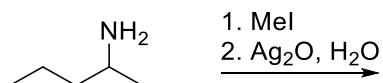
1. Ordnen Sie die folgenden Amine nach ihrer Basizität. (Von hoch zu tief). Erklären Sie Ihre Sortierung.



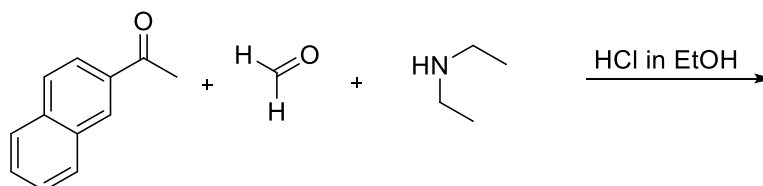
2. Welches Produkt erwarten Sie bei der folgenden Reaktion? Beschreiben Sie den Mechanismus.



3. Welches Produkt erwarten Sie bei der folgenden Umsetzung? Erklären Sie den Mechanismus und die Reaktivität.



4. Welches Produkt erwarten sie bei der folgenden Reaktion? Geben Sie den Mechanismus und den Namen der Reaktion an.



5. Welches Produkt erwarten Sie für die folgende Umsetzung? Beschreiben Sie den Mechanismus. Wie heißt die Reaktion?

