



Textaufgaben Division:

Arbeitsanweisungen:

1. Markiere in den Textaufgaben die Rechengeschichte grün, das mathematische Problem blau und die Rechenfrage gelb.
2. Unterstreiche in der Aufgabe die Zahlen, die du zur Rechnung benötigst.
3. Wie muss die Textaufgabe formuliert sein, damit sie zur Rechnung passt? Wenn zwei Wörter zur Auswahl stehen (z.B. „pro/jede“) kreise das richtige Wort ein.
4. Berechne das Ergebnis und schreibe die Antwort im ganzen Satz auf.

Textaufgaben:

 <p style="text-align: center;"><u>4776 : 6 = ?</u></p> <p>Die Gesamtschule hat im Schulgarten einen kleinen Teich angelegt. Die Schule will ihn komplett mit Wasser füllen. Im Becken passen 4776 Liter. Durch den Gartenschlauch des Hausmeisters fließen drei/sechs Liter pro/alle Minute. Wie viele/wenige Minuten braucht der Hausmeister bis das Becken ganz gefüllt ist?</p>	<p><u>Rechnung:</u></p>
<p><u>Antwort:</u></p> <hr/> <hr/> <hr/>	


 <p style="text-align: center;"><u>554616 : 8 = ?</u></p> <p>Bei einem Preisausschreiben konnte man eine hohe Geldsumme gewinnen. Die Acht Gewinner haben 554616 € gewonnen. Der Betrag wird verachtacht/geachtelt, damit jeder gleich/verschieden viel erhält. Wie viel Euro bekommt jeder?</p>	<p><u>Rechnung:</u></p>
<p><u>Antwort:</u></p> <hr/> <hr/> <hr/>	


Textaufgaben Division - Lösungen:

Arbeitsanweisungen:

1. Markiere in den Textaufgaben die Rechengeschichte grün, das mathematische Problem blau und die Rechenfrage gelb.
2. Unterstreiche in der Aufgabe die Zahlen, die du zur Rechnung benötigst.
3. Wie muss die Textaufgabe formuliert sein, damit sie zur Rechnung passt? Wenn zwei Wörter zur Auswahl stehen (z.B. „pro/jede“) kreise das richtige Wort ein.
4. Berechne das Ergebnis und schreibe die Antwort im ganzen Satz auf.

Textaufgaben:

 <p style="text-align: center;"><u>4776 : 6 = ?</u></p> <p>Die Gesamtschule hat im Schulgarten einen kleinen Teich angelegt. Die Schule will ihn komplett mit Wasser füllen. Im Becken passen 4776 Liter. Durch den Gartenschlauch des Hausmeisters fließen sechs Liter pro Minute. Wie viele Minuten braucht der Hausmeister bis das Becken ganz gefüllt ist?</p>	<p><u>Rechnung:</u></p> <p style="text-align: center;">4776 : 6 = 796</p>
<p><u>Antwort:</u></p> <p><u>Der Hausmeister braucht 796 Minuten bis das Becken ganz gefüllt ist.</u></p>	

 <p style="text-align: center;"><u>554616 : 8 = ?</u></p> <p>Bei einem Preisausschreiben konnte man eine hohe Geldsumme gewinnen. Die Acht Gewinner haben 554616 € gewonnen. Der Betrag wird geachtelt, damit jeder gleich viel erhält. Wie viel Euro bekommt jeder?</p>	<p><u>Rechnung:</u></p> <p style="text-align: center;">554616 : 8 = 69327</p>
<p><u>Antwort:</u></p> <p><u>Jeder Gewinner bekommt 69327 €</u></p>	